


## Wahrscheinlichkeit




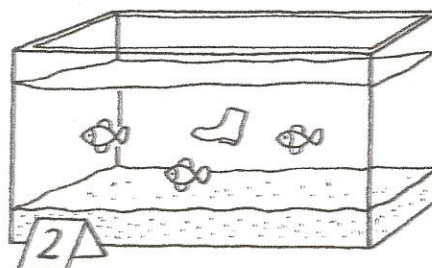

- 1** Beim Schulfest gibt es einen Losstand.  
Es gibt verschiedene Eimer mit Losen.  
Bei welchem Eimer ist die Wahrscheinlichkeit einen Gewinn zu ziehen am größten?

Eimer	Lose	Gewinne
1	200	100
2	200	120
3	110	100

Eimer \_\_\_\_\_



- 2** Angelspiel



- a) Bei welchem Aquarium ist die Wahrscheinlichkeit am größten einen Fisch zu angeln?

Aquarium \_\_\_\_\_

- b) Bei welchem Aquarium ist die Wahrscheinlichkeit am kleinsten einen Fisch zu angeln?

Aquarium \_\_\_\_\_

- c) Bei welchem Aquarium ist die Wahrscheinlichkeit am größten einen Stiefel zu angeln?

Aquarium \_\_\_\_\_

- d) Bei welchem Aquarium ist es sicher einen Fisch zu angeln?

Aquarium \_\_\_\_\_

- e) Bei welchem Aquarium ist die Chance einen Fisch oder einen Stiefel zu angeln gleich groß?

Aquarium \_\_\_\_\_